

Тренировочная работа №1 по МАТЕМАТИКЕ**10 класс**

8 февраля 2023 года

Вариант МА2200101

Выполнена: ФИО _____ класс _____

Инструкция по выполнению работы

На выполнение тренировочной работы по математике даётся 180 минут. Работа включает в себя 21 задание.

Ответом является целое число, или десятичная дробь, или последовательность цифр. Запишите ответ в отведённом для него месте на листе с заданиями.

При выполнении работы нельзя пользоваться учебниками, рабочими тетрадями, справочниками, калькулятором.

При необходимости можно пользоваться черновиком. Записи в черновике проверяться и оцениваться не будут.

Выполнять задания можно в любом порядке, главное — правильно решить как можно больше заданий. Советуем Вам для экономии времени пропускать задание, которое не удаётся выполнить сразу, и переходить к следующему. Если после выполнения всей работы у Вас останется время, можно будет вернуться к пропущенным заданиям.

Желаем успеха!

- 1** Бегун пробежал 400 метров за 40 секунд. Найдите среднюю скорость бегуна на дистанции. Ответ дайте в километрах в час.

Ответ: _____.

- 2** Установите соответствие между величинами и их возможными значениями: к каждому элементу первого столбца подберите соответствующий элемент из второго столбца.

ВЕЛИЧИНЫ**ЗНАЧЕНИЯ**

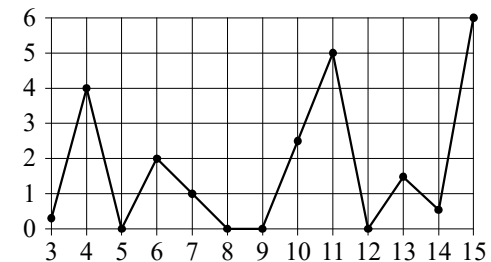
- | | |
|---|--|
| <p>А) время одного оборота Земли вокруг Солнца</p> <p>Б) длительность полнометражного художественного фильма</p> <p>В) длительность звучания одной песни</p> <p>Г) продолжительность вспышки фотоаппарата</p> | <p>1) 3,5 минуты</p> <p>2) 105 минут</p> <p>3) 365 суток</p> <p>4) 0,1 секунды</p> |
|---|--|

В таблице под каждой буквой, соответствующей величине, укажите номер её возможного значения.

Ответ:

А	Б	В	Г

- 3** На рисунке жирными точками показано суточное количество осадков, выпадавших в Казани с 3 по 15 февраля 1909 года. По горизонтали указываются числа месяца, по вертикали — количество осадков, выпавших в соответствующий день, в миллиметрах. Для наглядности жирные точки на рисунке соединены ломаной линией.



Определите по рисунку, какого числа в Казани выпало наибольшее количество осадков за данный период.

Ответ: _____.

4 Энергия заряженного конденсатора W (в Дж) вычисляется по формуле $W = \frac{q^2}{2C}$, где C — ёмкость конденсатора (в Ф), а q — заряд на одной обкладке конденсатора (в Кл). Найдите W (в Дж), если $C = 5 \cdot 10^{-4}$ Ф и $q = 0,03$ Кл.

Ответ: _____.

5 Вероятность того, что новая шариковая ручка пишет плохо или вовсе не пишет, равна 0,14. Покупатель не глядя берёт одну шариковую ручку из коробки. Найдите вероятность того, что эта ручка пишет хорошо.

Ответ: _____.

6 Рейтинговое агентство определяет рейтинг электрических фенов для волос на основе средней цены P (в рублях), а также показателей функциональности F , качества Q и дизайна D . Рейтинг R вычисляется по формуле

$$R = 3(F + Q) + D - 0,01P.$$

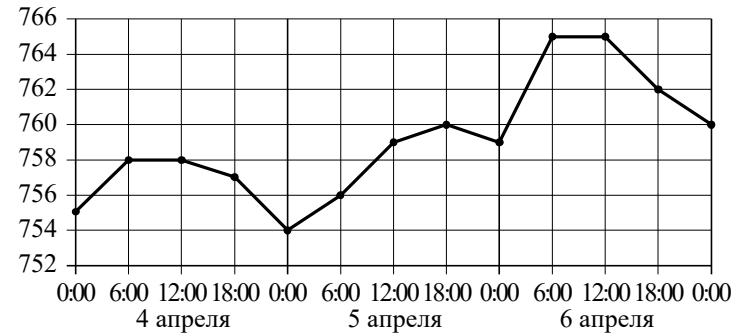
В таблице даны цены и показатели четырёх моделей фенов.

Модель фена	Средняя цена	Функциональность	Качество	Дизайн
А	1800	4	2	2
Б	1500	3	3	1
В	1300	3	1	2
Г	1100	2	3	2

Найдите наименьший рейтинг фена из представленных в таблице моделей.

Ответ: _____.

7 На рисунке точками показано атмосферное давление в некотором городе на протяжении трёх суток с 4 по 6 апреля 2013 года. В течение суток давление измеряется 4 раза: в 0:00, в 6:00, в 12:00 и в 18:00. По горизонтали указываются время и дата, по вертикали — давление в миллиметрах ртутного столба. Для наглядности точки соединены ломаной линией.



Пользуясь рисунком, поставьте в соответствие каждому из указанных периодов времени характеристику атмосферного давления в этом городе в течение этого периода.

- | ПЕРИОДЫ ВРЕМЕНИ | ХАРАКТЕРИСТИКИ |
|-------------------------------------|-------------------------------------|
| А) ночь 4 апреля (с 0 до 6 часов) | 1) Наибольший рост давления. |
| Б) день 4 апреля (с 12 до 18 часов) | 2) Давление достигло 758 мм рт. ст. |
| В) ночь 6 апреля (с 0 до 6 часов) | 3) Давление не изменилось. |
| Г) утро 6 апреля (с 6 до 12 часов) | 4) Давление упало. |

В таблице под каждой буквой укажите соответствующий номер.

Ответ:

А	Б	В	Г

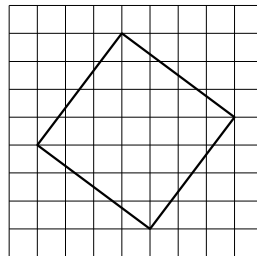
8 Двадцать выпускников одного из одиннадцатых классов сдавали ЕГЭ по обществознанию. Самый низкий балл, полученный в этом классе, был равен 36, а самый высокий — 75. Выберите утверждения, которые верны при указанных условиях.

- 1) Среди этих выпускников есть человек, который получил 75 баллов за ЕГЭ по обществознанию.
- 2) Среди этих выпускников есть двадцать человек с равными баллами за ЕГЭ по обществознанию.
- 3) Среди этих выпускников есть человек, получивший 20 баллов за ЕГЭ по обществознанию.
- 4) Баллы за ЕГЭ по обществознанию любого из этих двадцати человек не ниже 35.

В ответе запишите номера выбранных утверждений без пробелов, запятых и других дополнительных символов.

Ответ: _____.

9 План местности разбит на клетки. Каждая клетка обозначает квадрат $1\text{ м} \times 1\text{ м}$. Найдите площадь участка, выделенного на плане. Ответ дайте в квадратных метрах.

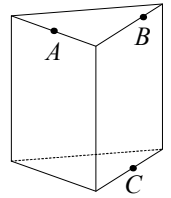


Ответ: _____.

10 Пол в комнате, имеющей форму прямоугольника со сторонами 7 м и 9 м, требуется покрыть паркетом из прямоугольных дощечек со сторонами 10 см и 20 см. Какое минимальное количество таких дощечек потребуется?

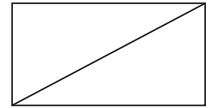
Ответ: _____.

11 Плоскость, проходящая через точки A , B и C (см. рисунок), разбивает правильную треугольную призму на два многогранника. Сколько граней у получившегося многогранника с меньшим числом рёбер?



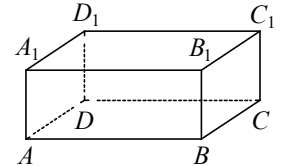
Ответ: _____.

12 В прямоугольнике одна из сторон равна 48, а диагональ равна 50. Найдите площадь этого прямоугольника.



Ответ: _____.

13 В прямоугольном параллелепипеде $ABCD A_1 B_1 C_1 D_1$ рёбра BC , BA и диагональ BC_1 боковой грани равны соответственно 3, 7 и $3\sqrt{5}$. Найдите объём параллелепипеда $ABCD A_1 B_1 C_1 D_1$.



Ответ: _____.

14 Найдите значение выражения $(2,3 + 2,2) \cdot 5,2$.

Ответ: _____.

15 Число посетителей сайта увеличилось за месяц впятеро. На сколько процентов увеличилось число посетителей сайта за этот месяц?

Ответ: _____.

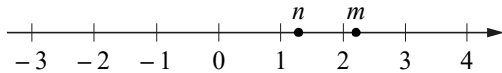
16 Найдите значение выражения $(\sqrt{19} + 2)(\sqrt{19} - 2)$.

Ответ: _____.

- 17) Решите уравнение $x^2 + 12 = 7x$.
Если уравнение имеет больше одного корня, в ответе укажите меньший из них.

Ответ: _____.

- 18) На прямой отмечены числа m и n .



Каждому из четырёх чисел в левом столбце соответствует отрезок, которому оно принадлежит. Установите соответствие между числами и отрезками из правого столбца.

ЧИСЛА	ОТРЕЗКИ
А) mn	1) $[0; 1]$
Б) $m + n$	2) $[1; 2]$
В) $\frac{n}{m}$	3) $[2; 3]$
Г) $\frac{1}{m} + n$	4) $[3; 4]$

Впишите в приведённую в ответе таблицу под каждой буквой соответствующий отрезку номер.

Ответ:

А	Б	В	Г


- 19) Четырёхзначное число A состоит из цифр 1, 3, 6, 8, а четырёхзначное число B — из цифр 2, 3, 6, 7. Известно, что $B = 2A$. В ответе укажите какое-нибудь одно такое число A , большее 1500.

Ответ: _____.

- 20) Первую треть трассы автомобиль ехал со скоростью 30 км/ч, вторую треть — со скоростью 80 км/ч, а последнюю — со скоростью 60 км/ч. Найдите среднюю скорость автомобиля на протяжении всего пути. Ответ дайте в км/ч.

Ответ: _____.

- 21) Прямоугольник разбит на четыре меньших прямоугольника двумя прямыми разрезами. Периметры трёх из них, начиная с левого верхнего и далее по часовой стрелке, равны 21, 11 и 4. Найдите периметр четвёртого прямоугольника.



Ответ: _____.

**Ответы на варианты СтатГрад МА2200101-2200108
От 08.02.2023**

	2200101	2200102	2200103	2200104	2200105	2200106	2200107	2200108
1	36	36	32,4	32	13	26	26	19
2	3214	2314	1432	4132	4123	1342	3421	2143
3	15	4	11	15	564	313	16	23300
4	0,9	2,5	0,4	0,0072	0,0128	0,02	0,005	0,0225
5	0,86	0,83	0,79	0,89	0,16	0,17	0,12	0,11
6	1	0	2	- 33	1	2	7	0
7	2413	4321	3214	3412	4321	4231	3412	2413
8	14	23	23	23	23	14	23	34
9	25	20	29	26	16	6	24	12
10	3150	255	330	323	30	24	48	34
11	5	9	6	9	7	6	12	6
12	672	420	480	420	5	15	17	29
13	126	50	72	72	360	11880	2520	720
14	23,4	98	108	24,7	29,4	99	95	39,6
15	400	50	300	200	70	60	210	45
16	15	348	245	14	11	8	9	11
17	3	4	1	4	4	- 1	4	2
18	3412	3214	4312	1342	2413	2314	1423	4231
19	1638 1836 1863 3186 3618 3681 3816	1649 1946 1964 4196 4619 4691 4916	1627 1726 1762 2176 2617 2671 2716	2749 2947 2974 4297 4729 4792 4927	2187 6912	1152 2250 3888 6174 9216	2304 5625	1800 6075
20	48	50	63	88	42	34	65	20
21	14	17	7	4	24	14	30	9